

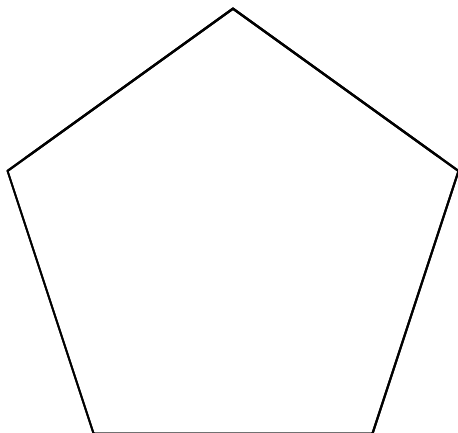
「図形の角のひみつを調べよう」⑤ ( )月( )日 ( )時間目

5年 組 番( )

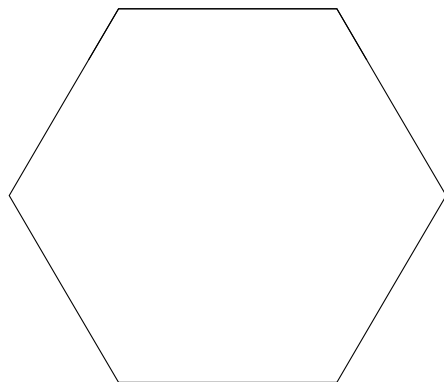
めあて

◎ 下の㉗, ㉘の多角形についても, 辺の長さや角の大きさをそれぞれ調べよう。

㉗



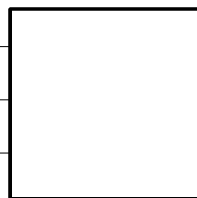
㉘




まとめ

☆ 下の図形は, 正多角形といえるでしょうか。

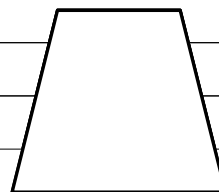
「いえる」か「いえない」かを考えて, そのわけを説明しよう。



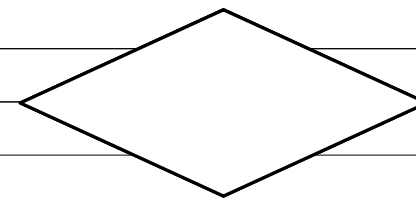
正方形



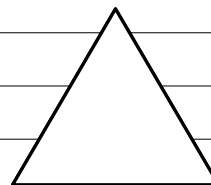
長方形



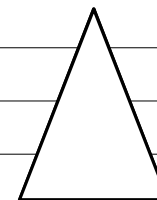
台形



ひし形



正三角形



二等辺三角形

◎学習を振り返ろう (評価 A:よくできた B:できた C:あまりできなかった D:できなかった)

①正多角形の 辺の長さや 角の大きさを 調べることができましたか	A	B	C	D
②考えたことを 分かりやすく 説明できましたか?	A	B	C	D
③友達の考えを 聞くことができましたか?	A	B	C	D
④友達の よい考え(よさ)を 見つけることができましたか?	A	B	C	D
⑤今日の学習は 分かりましたか?(理解できましたか?)	A	B	C	D

感想