

【第1学年数学ワークシート】


課題学習3 「正方形を組み合わせた図形の対称性」

No. 1


( ) 組 ( ) 号 氏名 ( )

〔課題1〕

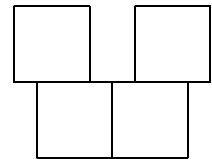
テトリスの図形→正方形4つを組み合わせてできる図形（テトロミノ）は何種類ありますか。



よい例




悪い例



〔課題2〕


正方形5つを組み合わせてできる図形（ペントミノ）は何種類ありますか。

【自分の考え】



( ) 組 ( ) 号 氏名 ( )

【友だちの考え】



[課題3]

ペントミノ12種類をいくつかのグループに分けてください。

