

中学校数学

第2学年

5 図形の性質と証明

[問題]

中学校

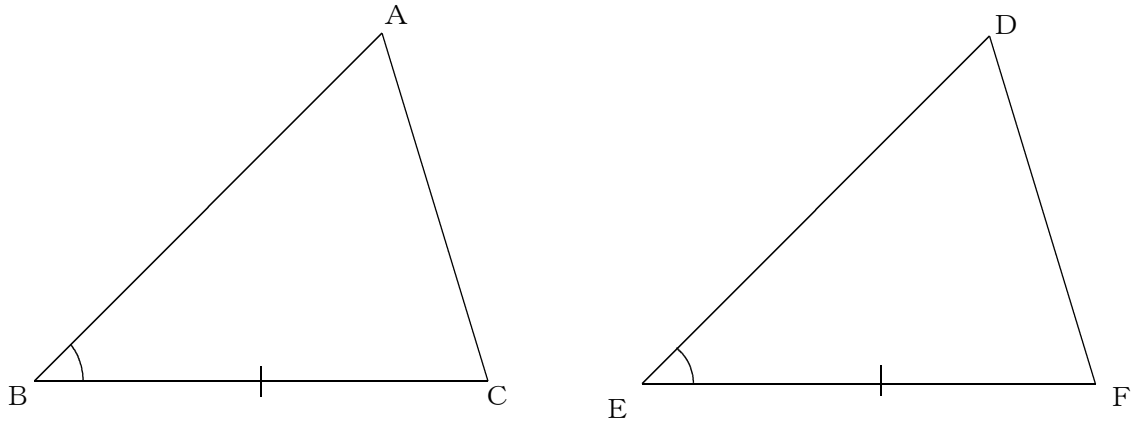
年 組 号 氏名

■知識・技能の習得を図る問題

年 組 号 氏名

■練習問題①

次の図で、 $\triangle ABC$ と $\triangle DEF$ が合同であることを証明しようとしています。 $BC=EF$ 、 $\angle ABC=\angle DEF$ であることは分かっています。



三角形の合同条件を用いて証明するために、あと1つどのようなことが分かればよいですか。下の = に分かればよいことを書きなさい。

- ・分かっていること

$BC = EF$
 $\angle ABC = \angle DEF$

- ・分かればよいこと

=

■練習問題②

次の問いに答えなさい。

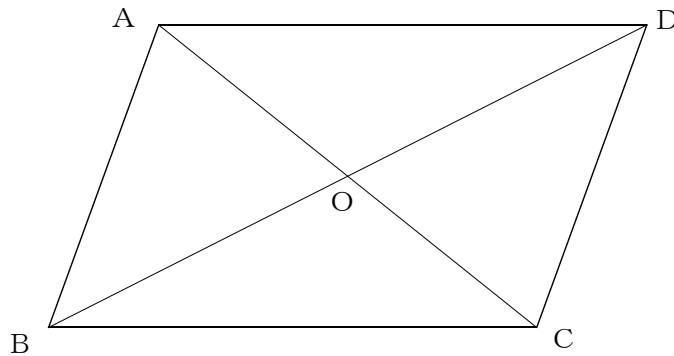
- (1) 下の四角形ABCDは、2組の向かいあう辺がそれぞれ平行であるとき、平行四辺形になります。

下線部を、下の図の四角形ABCDの辺と、記号//を使って表すと、

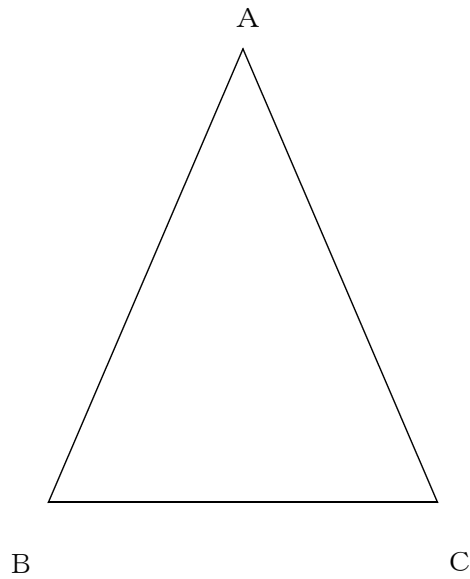
「AD // BC, AB // DC」

となります。

この他にもあと4つ平行四辺形になるための条件があります。その4つの条件を記号 \sphericalangle , //, = などをを使って表しなさい。ただし、点Oは四角形の対角線AC, BDの交点とします。



(2) 次の図で、 $\triangle ABC$ は $AB=AC$ の二等辺三角形です。



この二等辺三角形に、『 $AB=BC$ 』（または $AC=BC$ ）という条件が付け加われば正三角形になります。これ以外に、付け加えれば $\triangle ABC$ が正三角形になる条件があります。その条件を記号で答えなさい。

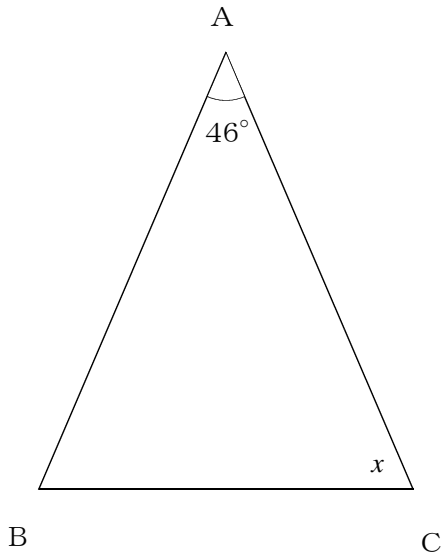
■知識・技能の習得を図る問題

年 組 号 氏名

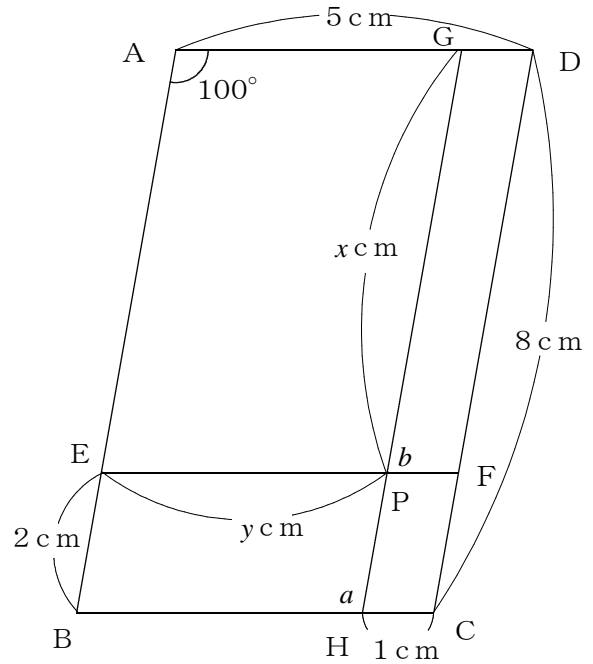
■練習問題③

次の角度や辺の長さを求めなさい。

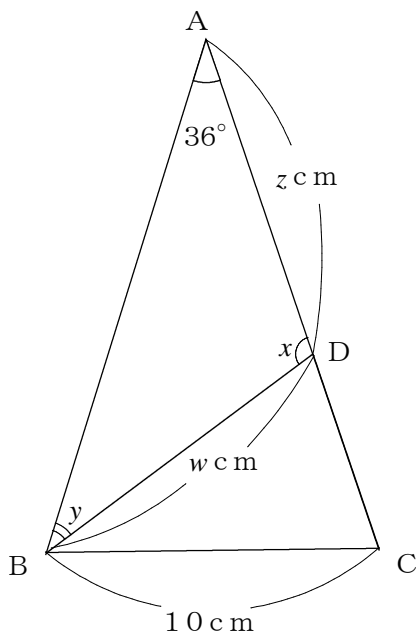
- (1) $\triangle ABC$ が $AB=AC$ の二等辺三角形のとき、 $\angle x$ の大きさを求めなさい。



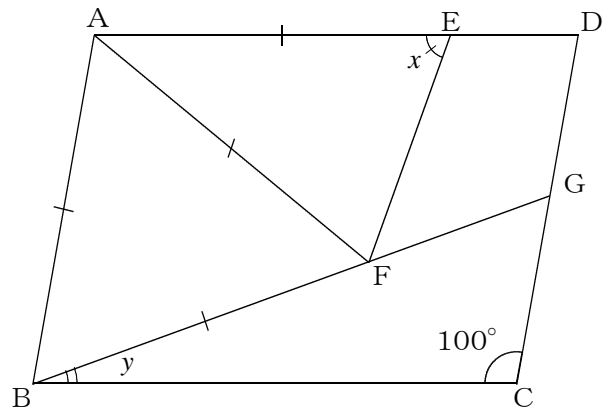
- (2) 四角形 $ABCD$ が平行四辺形で、 $AB \parallel GH$, $AD \parallel EF$ のとき、 x, y の値と、 $\angle a, \angle b$ の大きさをそれぞれ求めなさい。



- (3) $\triangle ABC$ は $AB=AC$ の二等辺三角形です。 $\angle B$ の二等分線と辺 AC との交点を D とする。このとき、 w, z の値と、 $\angle x, \angle y$ の大きさを、それぞれ求めなさい。



- (4) 四角形 $ABCD$ は $\angle C=100^\circ$ の平行四辺形で、 $\triangle ABF$ は AB を1辺とする正三角形とする。辺 AD 上に $AF=AE$ となる点 E をとり、 BF の延長と辺 DC の交点を G とする。このとき、 $\angle x, \angle y$ の大きさをそれぞれ求めなさい。



■知識・技能の習得を図る問題

年 組 号 氏名

■練習問題④

「二等辺三角形の底角は等しい」ことを下のよう証明しました。あとの問いに答えなさい。

【証明】

$AB=AC$ の二等辺三角形の、頂角の二等分線
 をひき、辺BCとの交点をDとする。
 $\triangle ABD$ と $\triangle ACD$ で、
 $\triangle ABC$ は二等辺三角形だから、
 $AB = AC$ ……①
 AD は $\angle A$ の二等分線だから、
 $\angle BAD = \angle CAD$ ……②
 共通な辺だから、
 $AD = AD$ ……③
 ①、②、③より、
 () ので、
 $\triangle ABD \equiv \triangle ACD$
 よって、[] から、
 $\angle B = \angle C$

(1) () にあてはまる三角形の合同条件を答えなさい。

(2) [] にあてはまる言葉を答えなさい。

(3) $\triangle ABD$ と $\triangle ACD$ の合同から、 $\angle B = \angle C$ 以外のことも分かります。その分かることを下のアからエの中から1つ選びなさい。

ア AD は BC を垂直に2等分する。

イ $AB = AD$ になる。

ウ $AB = BC = CA$ となり $\triangle ABC$ は正三角形になる。

エ $AB = AC$ の二等辺三角形 $\triangle ABC$ でも、上の図と異なる場合は常に、 $\angle B = \angle C$ になるとは限らない。

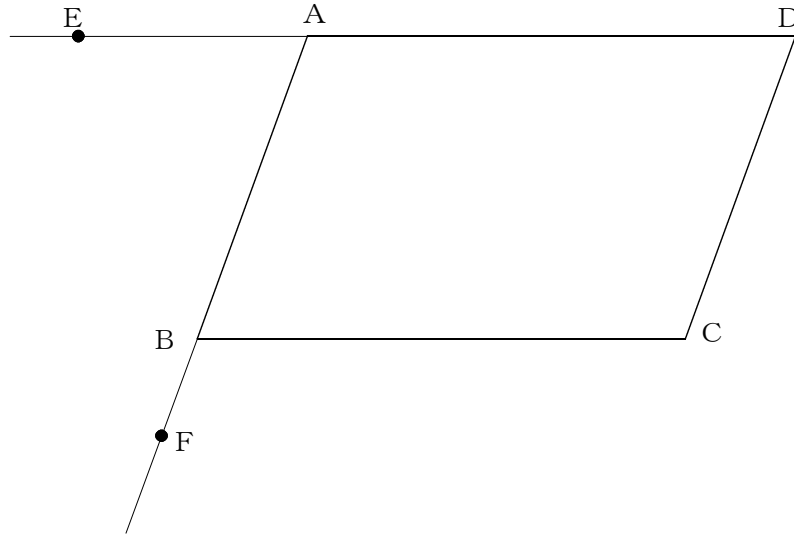
■知識・技能の習得を図る問題

年 組 号 氏名

■練習問題⑤

「平行四辺形の向かい合う角は等しい」ということを証明しました。あとの問いに答えなさい。

【証明】



上の図の□ABCDで、辺DAの延長上に点Eをとり、辺ABの延長上に点Fをとる。
□ABCDだから、AD//BC。よって、

$$\angle DAB = (\text{ア}) \quad \dots\dots①$$

また、AB//DCより、

$$(\text{ア}) = \angle C \quad \dots\dots②$$

①、②より、

$$\angle DAB = \angle C \quad \dots\dots③$$

同様に、AD//BCより、

$$\angle ABC = (\text{イ}) \quad \dots\dots④$$

また、AB//DCより、

$$(\text{イ}) = \angle D \quad \dots\dots⑤$$

④、⑤より、

$$\angle ABC = \angle D \quad \dots\dots⑥$$

よって③、⑥より、平行四辺形の向かい合う角は等しい。

(1) (ア), (イ) にあてはまる記号をかきなさい。

(2) ①, ②, ④, ⑤の根拠となることがらを下のアからエの中からそれぞれ1つずつ選びなさい。

ア 対頂角が等しいから

イ 同位角が等しいから

ウ 錯角が等しいから

エ 三角形の内角の和は 180° だから

(3) 平行四辺形の性質は、上で証明したことの他にもまだいくつかあります。平行四辺形の性質として正しいものを下のアからオの中から1つ選びなさい。

ア $\angle A = \angle B$, $\angle C = \angle D$ である。

イ $\angle A + \angle B = 180^\circ$, $\angle C + \angle D = 180^\circ$ である。

ウ 対角線が垂直に交わっている。

エ 対角線の長さが等しい。

オ $AB = BC$, $AD = DC$ である。

■知識・技能の習得を図る問題

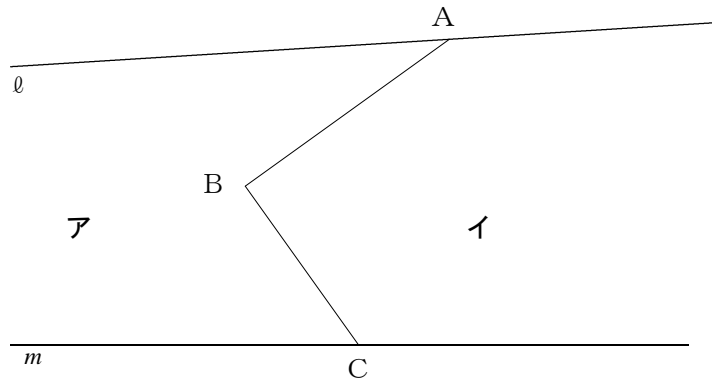
年 組 号 氏名

■練習問題⑥

次の問いに答えなさい。

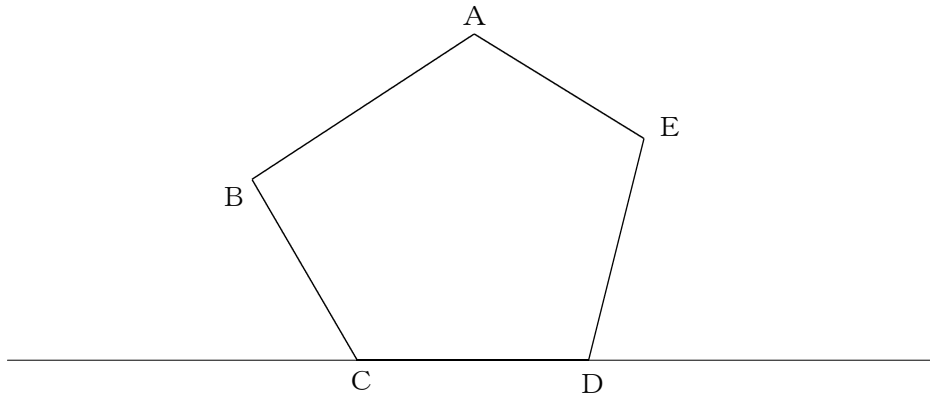
- (1) 下の図のように、直線 l と m の間にあり、折れ線ABCを境界とする2つの土地ア、イがあります。それぞれの土地の面積を変えないで、境界を点Cを通る線分CDに改めるとき、点Dの位置を作図により求めなさい。

ただし、点Dは直線 l 上にあるものとします。



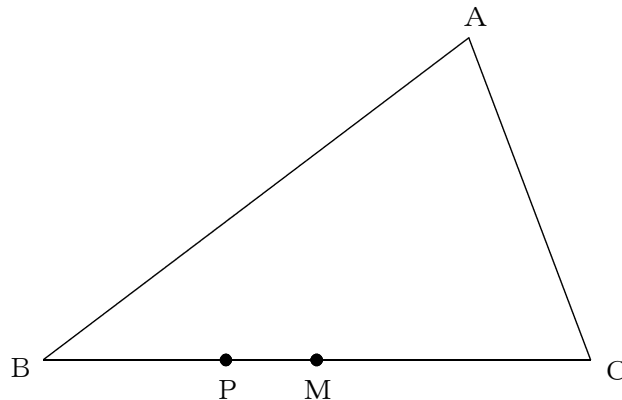
- (2) 次の五角形ABCDEと同じ面積の三角形AFGを作図しなさい。

ただし、点F, Gは直線CD上にあるものとします。



- (3) 次の三角形ABCで、点Pを通り、三角形ABCの面積を2等分する直線をかきなさい。

ただし、点Mは、BCの中点とします。

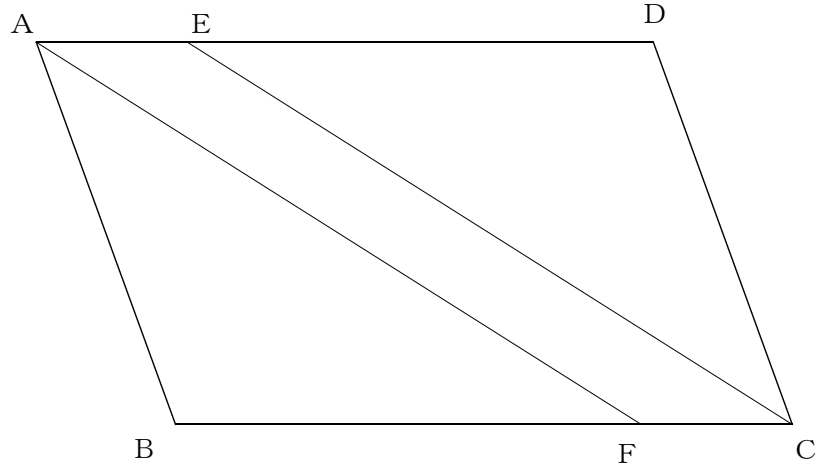


■知識・技能の習得を図る問題

年 組 号 氏名

■練習問題⑦

下の図のように、平行四辺形ABCDの辺AD, BC上に、 $AE=CF$ となる点E, Fをそれぞれとります。このときできる四角形AFCEが平行四辺形なることを証明しました。あとの問いに答えなさい。



【証明】

四角形AFCEで、
 四角形ABCDが平行四辺形であることより、向かい合う辺はそれぞれ
 平行なので、

(ア) ……①

仮定から、

(イ) ……②

①, ②から、

(ウ) から

四角形AFCEは平行四辺形になる。

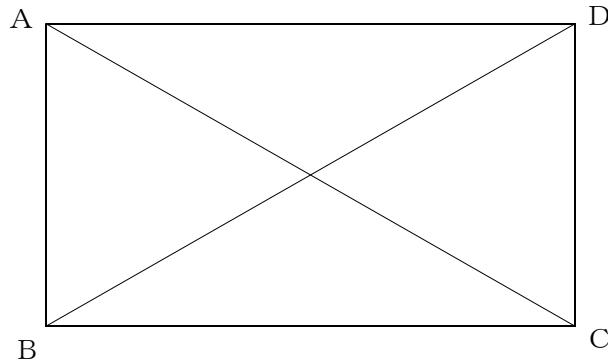
上の証明の中で、ア、イにはあてはまる式を、ウには平行四辺形になるための条件を答えなさい。

■知識・技能の習得を図る問題

年 組 号 氏名

■練習問題⑧

下の図の四角形ABCDで、卓也さんと紳太郎さんが証明を考えています。あとの問いに答えなさい。



卓也さんは、次のように、「四角形ABCDが長方形ならば $AC=BD$ である」ことを証明しました。

【証明】

$\triangle ABC$ と $\triangle DCB$ で、四角形ABCDが長方形であれば、

$$AB = (\quad \textcircled{1} \quad)$$

$$\angle ABC = (\quad \textcircled{2} \quad) = 90^\circ$$

共通な辺だから $BC = (\quad \textcircled{3} \quad)$

よって、($\quad \quad \quad \textcircled{4} \quad \quad \quad$) ので、

$$\triangle ABC \equiv \triangle DCB$$

だから、

$$AC = BD$$

となる。

- (1) 上の①から③には記号を、④には合同条件を書きなさい。

紳太郎さんは、卓也さんが証明した「四角形ABCDが長方形ならばAC=BDである」ことの逆を証明しようとしていました。

(2) 上の のことがらの逆を答えなさい。

(3) (2)で答えた逆のことがらが、正しいか正しいとはいえないかを答えなさい。また、正しいとはいえない場合は、その例を1つ答えなさい。