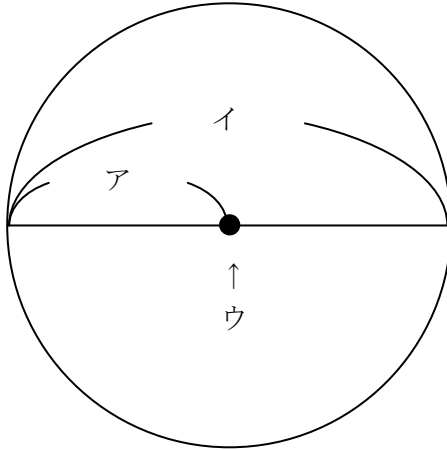




円 おぼえているかな？

組 番 名前 ()

1 ア、イ、ウにあてはまる言葉を書きましょう。(4年生上 円と球 p14~15)



ア ()

イ ()

ウ ()


2 にあてはまる言葉や数を書きましょう。(4年生上 円と球 p20)

(1) 円の直径の長さは、の2倍です。

(2) 直径が20cmの球の半径はcmです。

(3) 直径は円のを通ります。

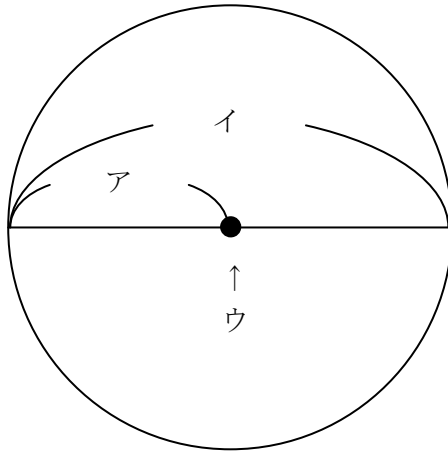
3 コンパスを使って半径3cmの円を書きましょう。(4年生上 円と球 p20)



円 おぼえているかな？

組 番 名前 ()

1 ア、イ、ウにあてはまる言葉を書きましょう。(4年生上 円と球 p14~15)



ア (半径)

イ (直径)

ウ (中心)

2 にあてはまる言葉や数を書きましょう。(4年生上 円と球 p20)

(1) 円の直径の長さは、の2倍です。

(2) 直径が20cmの球の半径はcmです。

(3) 直径は円のを通ります。

3 コンパスを使って半径3cmの円を書きましょう。(4年生上 円と球 p20)

