

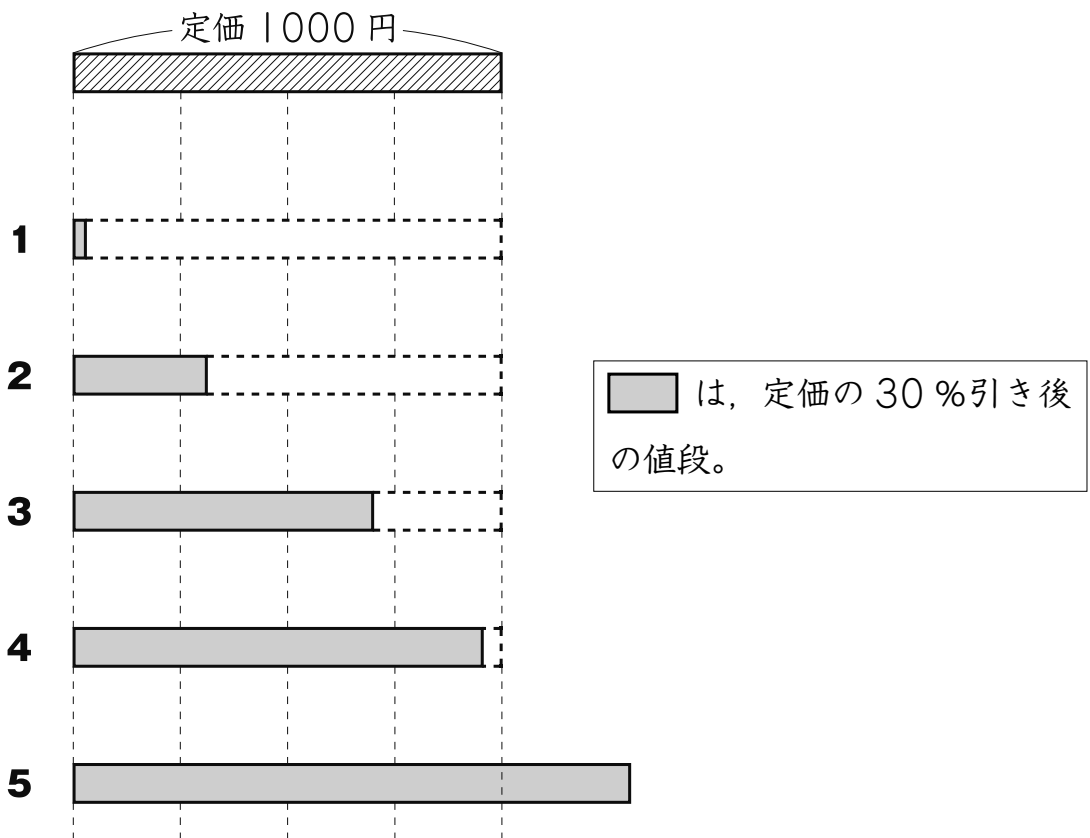
5

ひろしさんは、買い物に行きました。

- (1) 右の図のように、定価 1000 円のぼうしには、「定価の 30%引き」という札がついています。



定価 1000 円の図に対して、定価の 30%引き後の^{ねだん}値段を正しく表している図はどれですか。下の **1** から **5** までの中から 1 つ選んで、その番号を書きましょう。




(2) ひろしさんは、下のような定価で売られているシャツ、ズボン、くつを
1品ずつ買います。

ア



シャツ
定価 1900 円

イ



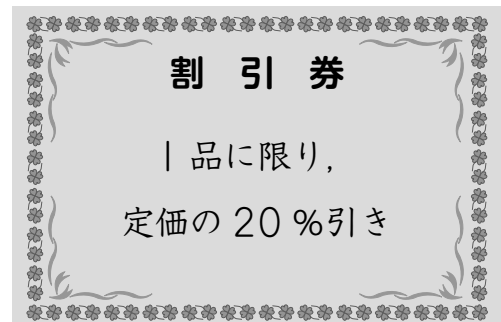
ズボン
定価 3900 円

ウ



くつ
定価 5800 円

ひろしさんは、右の図のような^{わりびきけん}割引券
を1枚持っています。その割引券には、
「1品に限り、定価の20%引き」と書
かれています。



シャツ、ズボン、くつのうち、どれに割引券を使うと、^{ねび}値引きされる金額
がいちばん大きくなりますか。

上のアからウまでの中から1つ選んで、その記号を書きましょう。また、
その記号の商品に割引券を使うと、値引きされる金額がいちばん大き
くなるわけを、言葉や式を使って書きましょう。