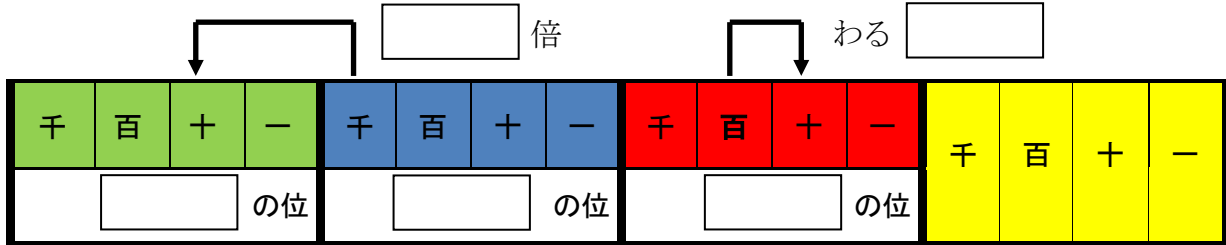


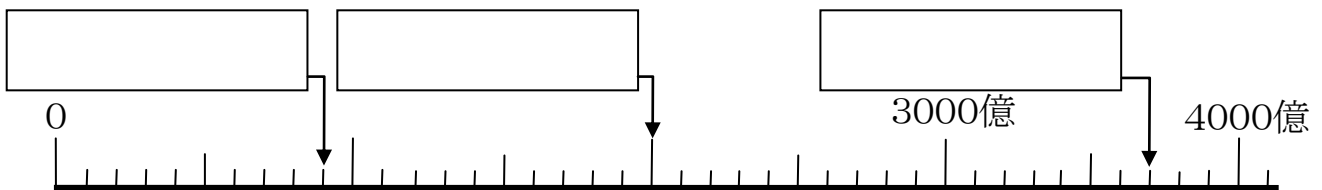
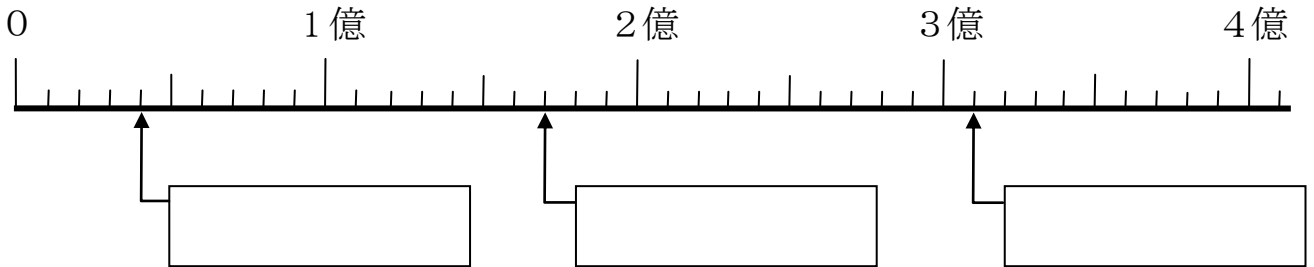
基本問題 <小学校4年 「大きな数」②>

年 組 号 名前

1 下の にあてはまることばや数字を書きましょう。



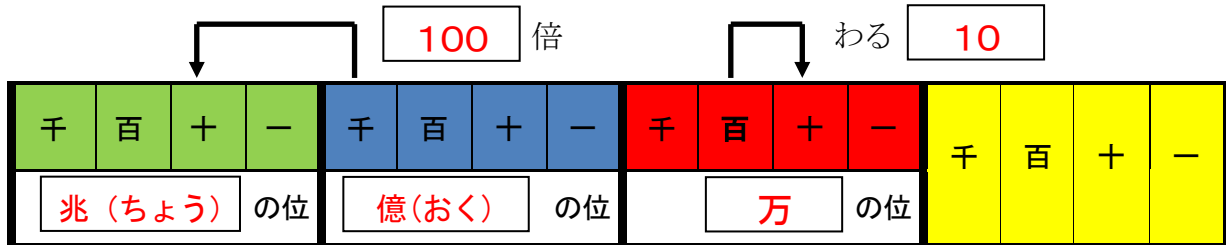
2 下の数直線で にあてはまる数をかきましょう。



基本問題 <小学校4年 「大きな数」②>

年	組	号	名前	答 え
---	---	---	----	-----

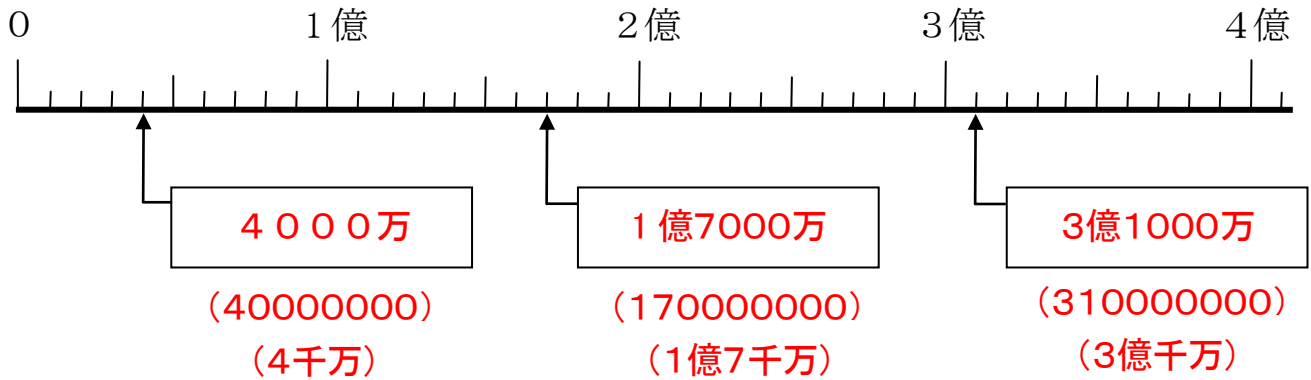
1 下の にあてはまることばや数字を書きましょう。



2 下の数直線で にあてはまる数をかきましょう。

[ポイント]

数直線を読むときは、1 めもりの大きさを計算するとかんたんに読むことができます。



[ポイント]

3000億から4000億までが、いくつに分けられているか考えると、1つのめもりの大きさが分かります。

