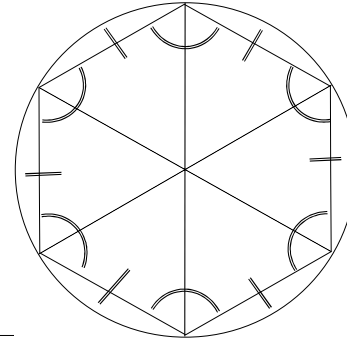
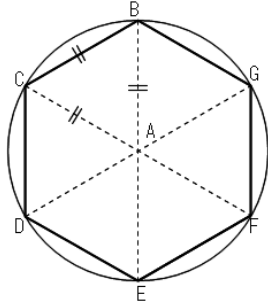
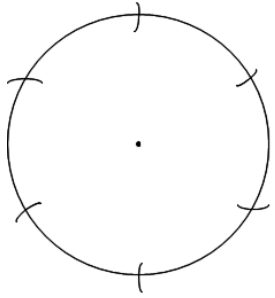


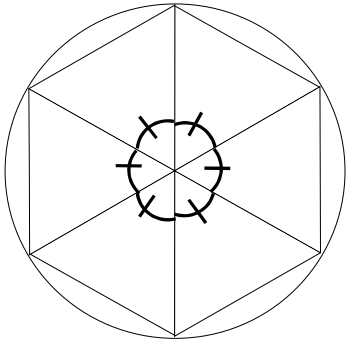
「図形の角のひみつを調べよう」⑦ ()月()日 ()時間目

5年 組 番()

正六角形は、下の図のように、円のまわりを半径の長さで区切ってかくことができます。



めあて



◎学習を振り返ろう (評価 A:よくできた B:できた C:あまりできなかった D:できなかった)

①自分の考えを 分かりやすく かくことができましたか？	A	B	C	D
②考えたことを 分かりやすく 説明できましたか？	A	B	C	D
③友達の考えを 聞くことができましたか？	A	B	C	D
④友達の よい考え(よさ)を 見つけることができましたか？	A	B	C	D
⑤今日の学習は 分かりましたか？(理解できましたか？)	A	B	C	D

感想	